

DOKUMEN

SAMPEL TEST

**B**

**TES TULIS**  
**PENERIMAAN PESERTA DIDIK BARU - RSBI**  
**TAHUN PELAJARAN**

**IPA, BHS. INGGRIS**  
**&**  
**PENGETAHUAN UMUM**

**Hari, tanggal :**  
**Waktu :**


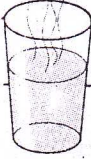


**TEST TULIS**  
**PENERIMAAN PESERTA DIDIK BARU (PPDB) – RSBI**  
**TAHUN PELAJARAN**

Hari, tanggal :  
 Mata Pelajaran : IPA, Bhs. Inggris, Pengetahuan Umum  
 Waktu : 60 Menit

*Pilihlah salah satu jawaban a, b, c atau d yang paling benar !*

**FISIKA**

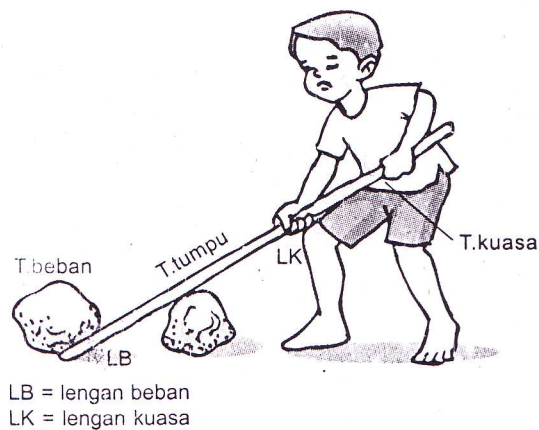
- Elemen pemanas dalam setrika listrik akan menjadi panas jika dialiri arus listrik. Peristiwa mengalirnya panas melalui pemanas disebut .....  
 a. Konveksi                      b. Radiasi                      c. Adaptasi                      d. Konduksi
- Diantara gambar peraga berikut yang sesuai dengan perubahan wujudnya adalah ...

	Peraga	Perubahan Wujud
A.		Mencair
B.		Mengembun
C.		Menguap
D.		Mencair

- Pada per seperti gambar disamping menunjukkan adanya gaya.....  
 a. Pegas  
 b. Magnet  
 c. Gesek  
 d. Gravitasi



- Perhatikan gambar berikut !



Bagian pengungkit yang menanggung beban paling berat terletak pada .....

- a. Titik Kuasa                      b. Titik Beban                      c. Titik Tumpu                      d. Lengan Beban

5. Pemasangan kaca pada jendela dibuat longgar , bertujuan .....

- a. Kaca tidak pecah saat meenyusut  
b. Kaca tidak pecah saat memuai terkana panas  
c. Mempermudah cara pemasangannya  
d. Kaca jendela tidak pecah saat ditutup.

6. Kolam renang dibuat dengan ukuran kedalaman yang berbeda-beda. Hal ini bertujuan agar orang yang ingin berenang dapat memilih tingkat kedalaman sesuai dengan kemampuannya. Namun bagian kolam renang yang dalam sekalipun tampak dangkal. Sifat cahaya yang ditunjukkan oleh fenomena ini yaitu .....

- a. Pemantulan                      b. Pengurain                      c. Pembiasan                      d. Perambatan


7. PT PLN gencar melakukan kampanye hemat energi. Penghematan energi listrik pada rumah tangga dapat dilakukan dengan .....

- a. Memasang lampu 5 watt di setiap ruang                      c. Memujtus aliran listrik pada siang hari  
b. Mednyalakan hanya satu lampu 5 watt                      d. Memakai alat-alat listrik hemat energi

8. Perhitungan tahun Masehi didasarkan pada .....

- a. Revolusi Bulan                      b. Revolusi Bumi                      c. Rotasi Bumi                      d. Rotasi Bumi

9. Perhatikan gambar di bawah ini !




Bagian bumi yang yertutup penumbra mengalami gerhana .....

- a. Bulan                      b. Matahari Total                      c. Matahari Cincin                      d. Matahari Sebagian

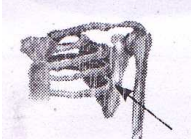
10. Bencana alam yang disebabkan oleh aktivitas manusia antara lain .....

- a. gempa bumi                      c. gunung meletuis  
b. tanah longsor                      d. angin punting beliung

11. Tumbuhan Kantong Semar tumbuh di rawa-rawa, dimana kadar nitrogennya sangat rendah. Tumbuhan tersebut memenuhi kebutuhan nitrogennya dengan cara. ....
- Mengugurkan daunnya
  - Menyerap dari udara
  - Memakan serangga
  - Menjadi parasit tumbuhan lain

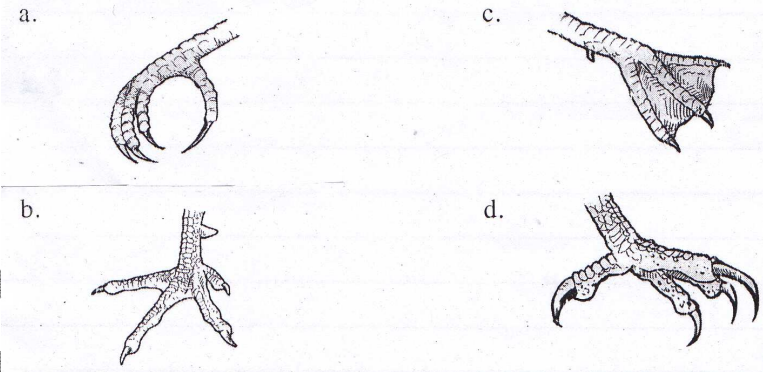
12.  Hewan yang ditunjuk pada gambar disamping berkembang biak dengan cara. ....
- membelah diri
  - Ovivar
  - Vivibar
  - Ovovivivar

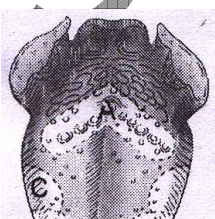
13. Dalam suatu komunitas hutan terdapat makhluk hidup berikut. . .
- |               |              |          |
|---------------|--------------|----------|
| 1. Ulat       | 3. Kupu-kupu | 5. Ayam  |
| 2. Pohon jati | 4. Musang    | 6. Jamur |
- Urutan rantai makanan dalam komunitas tersebut adalah. . . .
- 2-1-5-4-6
  - 2-3-4-5-6
  - 2-1-4-5-6
  - 6-2-1-5-4

14.  Bagian rangka yang ditunjukkan oleh tanda panah Pada gambar disamping adalah. . .
- Tulang belikat
  - Tulang hasta
  - Tulang kering
  - Tulang selangka

15. Lumut kerak merupakan contoh hubungan ketergantungan antara jamur dan ganggang. Hubungan tersebut termasuk simbiosis. ....
- Komensalisme
  - Dinamisme
  - Parasitisme
  - Mutualisme

16. Kaki burung Kakatua berguna untuk bertengger. Bentuk kaki burung kakatua ditunjukkan oleh gambar. . . .



17.  Bagian lidah yang peka untuk merasakan rasa asin pada gambar disamping terdapat pada . . . .
- A
  - B
  - C
  - D

18. Pertukaran oksigen dan karbondioksida pada proses pernapasan terjadi di dalam . . . .
- Bronkus
  - Bronkiolus
  - alveolus
  - pleora

19. Protein yang terdapat dalam makanan berfungsi bagi tubuh manusia sebagai. . . . .
- |                            |                               |
|----------------------------|-------------------------------|
| a. Sumber energi cadangan  | c. Penambahan ketahanan tubuh |
| b. Pembangun sel-sel tubuh | d. Sumber panas dan tenaga    |
20. Tujuan didirikannya tempat penangkaran di Way kambas Lampung adalah . . . . .
- |                                     |   |
|-------------------------------------|---|
| a. Untuk mengembangkan orang utan   | c. Untuk menjaga habitat Harimau Sumatera |
| b. Untuk melindungi tumbuhan langka | d. Untuk mengembangkan gajah              |

**A. Choose the best answer and blacken the circle on your answer sheet.**

**Questions 21 – 26 are based on Text 1**

**Seasons**

It is in the middle of summer, the air is very hot and dry. The temperature is about 34 degrees Celsius. I am sitting by the window of my living room, looking at the streets and drinking some iced lemon tea. Sometime I wonder why the weather in my hometown is always bad in each season. Last winter, a big snow storm paralysed this city and lasted almost a month. But things are not easy in the spring. The snow melted into mud and it covered the city. The previous summer was worse, lots of people dehydrated because of the heat. Hopefully, next fall will not be as bad as the last one. Last fall the wind and the rain were pretty bad.

21. What season is it?
- |           |           |           |         |
|-----------|-----------|-----------|---------|
| a. Spring | b. Summer | c. Winter | d. Fall |
|-----------|-----------|-----------|---------|
22. What is the weather like?
- |               |             |             |               |
|---------------|-------------|-------------|---------------|
| a. It's humid | b. It's wet | c. It's hot | d. It's windy |
|---------------|-------------|-------------|---------------|
23. The weather is \_\_\_\_\_ in every season.
- |                |                |              |               |
|----------------|----------------|--------------|---------------|
| a. always good | b. seldom good | c. never bad | d. never good |
|----------------|----------------|--------------|---------------|
24. What struck the city last winter?
- |                 |                         |                |                 |
|-----------------|-------------------------|----------------|-----------------|
| a. A snow storm | b. A tropical hurricane | c. A snow fall | d. A snow flake |
|-----------------|-------------------------|----------------|-----------------|
25. It covered the city . The word 'It' refers to \_\_\_\_\_
- |             |                    |            |               |
|-------------|--------------------|------------|---------------|
| a. The snow | b. The melted snow | c. The mud | d. The spring |
|-------------|--------------------|------------|---------------|
26. What is the effect of the terrible heat wave?
- |               |                |             |           |
|---------------|----------------|-------------|-----------|
| a. Starvation | b. Dehydration | c. Diseases | d. Famine |
|---------------|----------------|-------------|-----------|

**Read the message then answer questions 27 – 28**

Hello, Billy. This is Jane. I'm at the Juanda airport. I've just arrived an hour ago. I'm having trouble finding a hotel. Can you come here soon? I'll stay in Surabaya for a few days. I'll call you back in an hour.

27. Who wrote the message?
- |             |             |                   |                |
|-------------|-------------|-------------------|----------------|
| a. Jane did | b. Bill did | c. The writer did | d. Your friend |
|-------------|-------------|-------------------|----------------|
28. What did she write a message to her friend for?
- |                            |                              |
|----------------------------|------------------------------|
| a. To come to Jane's house | c. To come to Billy's house  |
| b. To come to Bill's house | d. To come to Juanda airport |

**Read the dialogue and choose the right answers for questions 29 – 33.**

Tomi : Where are you going to spend your holiday?

Tuti : In Batu, near Malang, East Java

Tomi: Why are you going to spend the holiday there?

Tuti : It is not as crowded as Jakarta and Surabaya. The weather is rather cold at night.

Tomi: Do you like quiet places?

Tuti : Yes, I do.

Tomi: So do I.

29. Where is Tuti going to spend her holiday?  
a. In Jakarta                      b. In Surabaya                      c. In Malang                      d. In Batu
30. Tuti is going to spend her holiday there because she likes.....  
a. interesting places              b. quiet places                      c. crowded places                      d. isolated areas
31. Is Jakarta crowded?  
a. Perhaps                              b. Maybe                              c. No, it isn't                      d. Yes, It is
32. The weather in Batu is ..... at night.  
a. very cold                              b. rather cold                              c. not so cold                              d. hot
33. Does Tomi also like quiet places?  
a. Yes, he does                              b. No, he doesn't                              c. Not really                              d. Perhaps not

**Questions 34 – 36 are based on the following text**

**Our School**

Our school is on Jalan Sudirman. It has eighteen classrooms, two laboratories, one library, one headmaster's room, one teacher's room, one staff room, one music room, one computer's room, and one canteen. We always hold a flag ceremony in our schoolyard. Our schoolyard is not so big, that's why if we have PE lesson, we practice at the field beside our school.

34. Where do they hold a flag ceremony?  
a. In the room                              c. Beside their school  
b. At the field                              d. In their schoolyard
35. The students don't practice their PE lesson at the schoolyard because it is...  
a. Big                                      b. long                                      c. wide                                      d. small
36. "We always hold a flag ceremony ... " (line 3)  
What does the underlined word refer to?  
a. The writer and his teachers                              c. The students in the writer's school  
b. All the teachers of the school                              d. The writer and his schoolmates

**Choose the most suitable words to complete the text.**

It's Sunday. Benny and Anita, his sister, don't go to school. So they plan to clean the bedroom. They also clean the livingroom. They (37) ....the bed, sweep and mop the floor, and dust the furniture. (38).... looks so clean and tidy.

37. a. make                              b. do                                      c. dust                                      d. blow

- 38 a. A lot of things      b. No one      c. Everything      d. Nothing

Questions no 39 – 40 are based on the following text

**How to make a paper boat or a hat**

Things you need:

A half page of newspaper

What to do:

First, fold the paper in half the long way, crease and unfold.

Second, fold the sides up to the middle crease, keep folded.

Next, fold the corners down to the middle.

After that, fold the corners down to the middle again.

Then, fold the points down to the middle.

Finally, open the middle and turn it inside out to make a boat, or flip it over and wear it as a hat.

39. How many steps should we follow to make a good paper boat or hat?  
a. 7      b. 6      c. 5      d. 4
40. "Finally, open the middle and turn it inside out to make a boat, or flip it over and wear it as a hat."  
The underlined word is similar to...  
a. design      b. create      c. perform      d. have

**PENGETAHUAN UMUM**

41. Keadaan udara pada suatu tempat dalam waktu singkat disebut.....  
a. cuaca      b. Kelembapan udara      c. iklim      d. tekanan udara
42. Letak geografis Indonesia adalah.....  
a. Antara 2 benua yaitu Asia dan Amerika; serta 2 samudera yaitu Samudera Hindia dan Samudera Pasific  
b. Antara 2 benua (Asia – Afrika) dan 2 Samudera (Samudera Hindia dan Samudera Atlantik)  
c. Antara 2 benua (Asia – Australia) dan 2 Samudera (Samudera Hindia dan Samudera Pasific)  
d. Antara 2 benua (Asia – Eropa) dan 2 Samudera (Samudera Hindia dan Samudera Pasific)
43. Angin yang mendaratkan musim kemarau di Indonesia adalah.....  
a. Angin muson barat      b. Angin muson timur      c. Angin local      d. Angin Iohn
44. Pabrik semen Cibinang terdapat di.....  
a. Gresik      b. Kupang      c. Sulawesi      d. Bogor
45. Simpan dalam koperasi yang dibayar secara berkala disebut simpanan.....  
a. pokok      b. wajib      c. sukarela      d. isidentil
46. Gambar padi dan kapas dalam koperasi melambangkan.....  
a. keadilan      b. kemakmuran      c. persatuan      d. dasar Negara pancasila
47. Cabang-cabang produksi yang penting dan yang menguasai hajat hidup orang banyak yang dikuasai oleh Negara adalah bunyi UUD 1945 pasal.....  
a. pasal 33 ayat 1      b. pasal 33 ayat 2      c. pasal 33 ayat 3      d. pasal 34 ayat 1

48. Yang mendapat sebutan kerajaan nasional nomor 2 adalah kerajaan.....  
a. kerajaan Sriwijaya      b. kerajaan Mojopahit      c. kerajaan Kutai      d. kerajaan Kediri
49. Sumpah yang diucapkan oleh Mahapatih Gajah Mada dikenal dengan nama.....  
a. sumpah pahlawan      b. sumpah pemuda      c. sumpah pelajar      d. sumpah palapa
50. Pada tanggal 19 Agustus 1945 PPKI mengadakan sidang dan berhasil mengesahkan .....  
a. UUD 1945      c. Presiden dan wakil presiden  
b. 12 kementerian      d. MPR
51. Setelah UUD 1945 diamandemen maka kedudukan MPR menjadi. . . .  
a. Lembaga Tertinggi Negara      c. Badan Eksekutif  
b. Lembaga Negara      d. Badan Yudikatif
52. Sikap berikut ini adalah sikap tidak mencerminkan sebagai pelajar yang cinta budaya Indonesia.  
a. Membolos saat pelajaran seni daerah di sekolah  
b. Menonton seni daerah di Selomangleng  
c. Mengikuti pelajaran seni daerah dengan baik di sekolah  
d. Membaca puisi sastrawan-satrawan Indonesia
53. Susunan sila-sila dari Pancasila yang syah/ otentik terdapat di. . . . .  
a. Piagam Jakarta  
b. Di bawah gambar Garuda yang ada di setiap Kantor/Sekolah  
c. Alinea ke 4 pembukaan UUD 1945  
d. Ketetapan sidang PPKI
54. Dibawah ini termasuk perbuatan ibadah terhadap sesama manusia adalah. . .  
a. Belajar dengan tekun dan disiplin agar mendapat nilai yang baik  
b. Menjenguk teman yang sakit di rumah sakit  
c. Memberitahu jawaban pada saat ulangan berlangsung  
d. Mengerjakan PR milik teman yang sedang tidak masuk sekolah
55. Lambang persatuan yaitu Bhineka Tunggal Ika terletak di gambar burung garuda, yaitu di. . .  
a. Atasnya gambar burung Garuda      c. Dada gambar burung Garuda  
b. Bawahnya gambar burung Garuda      d. Cengkeraman kaki gambar burung Garuda
56. PEMILU legeslatif yang baru diikuti oleh seluruh Bangsa Indonesia pada bulan April 2009 untuk memilih. . .  
a. MPR, DPR, BPD, DPRD Propinsi, dan DPDR Kota/Kabupaten  
b. MA, BPK, KY  
c. MPR dan DPR saja  
d. Presiden dan wakil Presiden
57. Salah satu ciri pemerintah yang Demokratis adalah kekuasaan tertinggi ada di tangan. . .  
a. Presiden      b. DPR      c. Rakyat      d. Lembaga Negara
58. Sikap positif terhadap makna proklamasi Kemerdekaan di lingkungan sekolah adalah. . . .  
a. Rela berkorban untuk kepentingan bangsa dan Negara  
b. Turut serta untuk merayakan HUT RI di lingkungan RT  
c. Siswa dengan penuh khitmat pada saat mengibarkan bendera merah putih di sekolah  
d. Menghormati hak dan kewajiban dalam membela negara



59. Salah satu cara menghargai jasa para pahlawan yang telah gugur yaitu dengan . . . . .
- a. Menguburkan di Taman Makam Pahlawan
  - b. Melanjutkan perjuangannya dan meneladani kepahlawanannya
  - c. Mendoakan setiap waktu, terutama pada saat upacara bendera
  - d. Mengenang dan menyanjungnya
60. Undang Undang Dasar Negara Indonesia 1945 sebagai konstitusi pertama disahkan oleh. . . . .
- a. PPKI tanggal 18 agustus 1945
  - b. PPKI tanggal 22 agustus 1945
  - c. BPUPKI tanggal 17 agustus 1945
  - d. BPUPKI tanggal 18 agustus 1945

SAMPLE TEST

DOKUMEN

SAMPEL TEST

A

**TES TULIS**  
**PENERIMAAN PESERTA DIDIK BARU - RSBI**  
**TAHUN PELAJARAN**

**BAHASA INDONESIA**  
**&**  
**MATEMATIKA**

**Hari, tanggal :**  
**Waktu :**

**TEST TULIS**  
**PENERIMAAN PESERTA DIDIK BARU (PPDB) – RSBI**  
**TAHUN PELAJARAN**

Hari, tanggal :  
Mata Pelajaran : Bahasa Indonesia, Matematika  
Waktu : 60 Menit

---

*Pilihlah salah satu jawaban a, b, c atau d yang paling benar !*

**BAHASA INDONESIA**

1. ketika diharuskan mandi dalam lumpur, aku sedikit takut, akan tetapi, lama kelamaan asyik juga, berulang kali kakiku terperosok dalam lumpur.  
Kata yang huruf awalnya seharusnya ditulis dengan huruf kapital pada paragraf di atas adalah ...
  - a. Ketika, Aku, Berulang
  - b. Ketika, Akan, Berulang
  - c. Ketika, Aku, Akan
  - d. Ketika, Di, Aku, Berulang
  
2. Di sebuah hutan rimba, hiduplah dua hewan yang bersahabat akrab. Mereka adalah burung hantu dan kancil. Keduanya selalu hidup rukun dan damai. Hutan tersebut dipimpin oleh seekor singa yang bijaksana.....  
Kalimat yang tepat untuk melengkapi paragraf di atas adalah.....
  - a. Singa ingin makan burung hantu dan kancil
  - b. Di hutan harus banyak penghuninya
  - c. Burung hantu dan kancil kurang senang memiliki pemimpin singa
  - d. Singa kagum dengan persahabatan burung hantu dan kancil
  
3. Kamu perlu waktu lebih lama untuk beristirahat agar tubuhmu lebih segar.  
Kalimat yang bermakna sama dengan kalimat di atas adalah.....
  - a. Kamu tidak boleh terlalu lama tidur
  - b. Sebaiknya, kamu tidak tidur larut malam agar tubuhmu sehat
  - c. Istirahat terlalu lama membuat tubuh menjadi segar
  - d. Tubuh menjadi lemas jika kita beristirahat secukupnya
  
4. Kebersihan sekolah ditanggungjawab oleh guru, oleh kepala sekolah, oleh murid dan oleh penjaga sekolah.  
Kalimat efektif untuk memperbaiki kalimat di atas adalah.....
  - a. Kepala sekolah, guru dan murid bertanggung jawab, juga penjaga sekolah
  - b. Kebersihan sekolah ditanggungjawab kepada warga sekolah
  - c. Kebersihan sekolah menjadi tanggung jawab seluruh warga sekolah
  - d. Kepala sekolah memberi tanggung jawab kebersihan kepada guru, murid dan penjaga sekolah
  
5. Sepulang sekolah, Rudi segera berganti pakaian. Setelah makan, ia beristirahat sejenak. Kemudian Rudi melakukan tugas rutin membantu ibu mengisi bak air.  
Kalimat tanya yang tepat sesuai ilustrasi di atas adalah.....
  - a. Siapa yang membantu Rudi mengisi bak air?
  - b. Bagaimana cara Rudi mengisi bak air?
  - c. Apa kegiatan Rudi sepulang dari sekolah?
  - d. Mengapa Rudi tidak langsung main dengan teman?
  
6. Budiman ingin menabung di Bank Karya. Ternyata, menjadi nasabah bank tidak sulit. Ia cukup memberikan fotocopi kartu pelajar. Ia pun harus menyetorkan setoran awal sebesar seratus ribu rupiah.  
Kalimat utama pada paragraf di atas adalah.....

- a. Menjadi nasabah bank tidak sulit
- b. Ia pun harus menyetorkan setoran awal sebesar seratus ribu rupiah
- c. Ia cukup memberikan fotocopi kartu pelajar
- d. Budiman ingin menabung di Bank Karya

7. Penulisan kata depan yang tepat terdapat pada kalimat.....
- a. Pelajar Indonesia yang bersekolah diluar negeri selalu rindu suasana hari lebaran di tanah air
  - b. Pelajar Indonesia di luar negeri selalu rindu suasana hari Lebaran di tanah air
  - c. Pelajar Indonesia bercita-cita dapat menuntut ilmu hingga kenegeri tetangga
  - d. Pelajar Indonesia bercita-cita menuntut ilmu diluar negeri

8. Bacalah paragraf berikut secara seksama!

*Malam gelap, hanya bintang menjadi patokan mereka. Ombak yang tinggi, angin kencang, dan dinginnya malam tak mereka hiraukan. Mereka hanya berharap, esok dapat pulang membawa hasil. Keluarga di sana telah menanti penuh harap. Begitu pula para pedagang.*

Kalimat ringkasan yang tepat untuk paragraf di atas adalah.....

- a. Pedagang menanti nelayan menyerahkan ikan
- b. Keluarga nelayan selalu gembira menyambut ombak
- c. Cara nelayan menangkap ikan sungguh aneh
- d. Perjuangan para nelayan sangat mengagumkan

9. Bacalah teks dialog berikut ini dengan seksama!

Rita : Selamat pagi, Pak Lurah!  
 Pak Lurah : Selamat pagi! Ada apa, Dik?  
 Rita : Saya mendapat tugas dari sekolah untuk mewawancarai Bapak  
 .....

Pak Lurah : Oh, ya Dik dengan senang hati. Saya bersedia

Kalimat yang tepat untuk melengkapi ucapan Rita adalah.....

- a. Belah kan, pak?
- b. Bagaimana, ya Pak?
- d. Apakah Bapak bersedia?
- e. Saya minta tolong, Pak!

10. (1) Dari kegiatan Pramuka, aku belajar banyak keterampilan, bekerja sama, tolong-menolong dan masih banyak lagi  
 (2) Aku yakin, kegiatan ini pasti menyenangkan  
 (3) Aku senang mengikuti kegiatan pramuka  
 (4) Pada suatu hari, sekolahku mengumumkan akan mengadakan persami  
 (5) Tentu saja aku tak mau ketinggalan untuk ikut serta

Susunan kalimat yang benar supaya menjadi paragraf yang padu adalah.....

- a. 3 - 1 - 2 - 4 - 5
- b. 3 - 2 - 5 - 1 - 4
- c. 3 - 1 - 4 - 5 - 2
- d. 3 - 1 - 5 - 4 - 2

Selamat pagi hadirin yang budiman

\_\_\_\_\_ Mereka calon para pemimpin, baik di pemerintahan maupun di dunia usaha. Kejayaan dan kesejahteraan bangsa dan negara akan menjadi tanggung jawab mereka.

Oleh karena itu, kita sebagai orang tua harus dapat membimbing dan menyiapkan mereka. Kita perlu memberikan pendidikan disertai kasih sayang. Mereka perlu dibekali keluhuran budi dan kekuatan hati

Demikian sedikit kata yang dapat saya haturkan \_\_\_\_\_

11. Kalimat pembuka yang tepat untuk penggalan pidato di atas adalah.....

- a. Seperti kita ketahui, generasi muda adalah pewaris kelangsungan negara
- b. Tahukah hadirin, siapa pemimpin yang akan terpilih dalam pemilu?
- c. Mereka anak-anak berumur antara 6 hingga 17 tahun yang sedang nakal-nakalnya
- d. Orang tua yang baik adalah orang tua yang sabar dan mau bekerja keras

12. Kalimat penutup yang tepat untuk penggalan pidato diatas adalah.....
- a. Saya hanya menyampaikan akibat penggunaan narkoba yang mematikan
  - b. Semoga kita diberi kekuatan oleh Tuhan untuk menjadi orang tua yang bijaksana bagi anak-anak kita
  - c. Mudah-mudahan hadirin masih sempat menyaksikan anak-anak menjadi juara lomba
  - d. Kalau lama berpidato, hadirin pasti bosan mendengarnya

13.

**Data :**

- 1) Laki-laki
- 2) SDN Ceger, Jakarta Timur
- 3) Jakarta, 1 Februari 1972
- 4) SMP Bagus, Jakarta Timur
- 5) Gilar Bangun Persada
- 6) SMA Bogor, Jakarta Timur
- 7) Sarjana Teknik, Universitas Paramuda Jakarta

**DAFTAR RIWAYAT HIDUP**

- 1. Nama Lengkap : .....
- 2. Tempat dan Tgl.Lahir : .....
- 3. Jenis Kelamin : .....
- 4. Pendidikan : .....
- a. ....lulus tahun 1984
- b. ....lulus tahun 1987
- c. ....lulus tahun 1990
- d. ....lulus tahun 1995

Urutan pengisian data ke dalam daftar riwayat hidup di atas yang benar adalah.....

- a. 5 – 3 – 1 – 2 – 4 – 6 – 7
- b. 5 – 3 – 1 – 4 – 2 – 6 – 7
- c. 5 – 3 – 1 – 6 – 4 – 2 – 7
- d. 5 – 3 – 1 – 7 – 4 – 6 – 2

Bacalah teks berikut dengan seksama untuk mengerjakan soal nomor 14, 15, 16!

Hampir setiap tahun, Suku Dinas Kebudayaan Jakarta Pusat mengadakan lomba seni dalam kegiatan Pekan Seni Sekolah Dasar (PSSD). Cabang seni yang dilombakan tahun ini adalah menari.

Kepala Sekolah kami dating ke kantor Suku Dinas Kebudayaan Jakarta Pusat untuk mendaftar sebagai peserta. Anggota yang didaftarkan sebanyak sembilan anak perempuan. Semua berasal dari kelas 6.

Kami sangat senang karena guru dan teman-teman mendukung. Kami berlatih setiap pulang sekolah.

Bu Nur pelatih kami. Beliau sangat sabar. Kami sering melakukan kesalahan, tetapi beliau tidak marah.

Waktu perlombaan tiba. Bu Nur mendaftar ulang kepada panitia. Kami menunggu dengan perasaan tak menentu, antara senang dan takut. Regu kami mendapat nomor undian 7. Beberapa peserta telah tampil dalam perlombaan itu. Kami memperhatikan dengan serius. Giliran regu kami tampil. Tidak disangka, penonton menyambut penampilan kami dengan meriah. Kami makin percaya diri.

Usai dzuhur, acara lomba selesai. Panitia mengumumkan hasil penilaian juri. Tidak kami kira, ternyata regu kami mendapat juara pertama. Oh, alangkah senangnya hati kami. Kepala sekolah menyambut kami dengan senyum bahagia. Kami mampu mempersembahkan piala melengkapi deretan prestasi yang ada

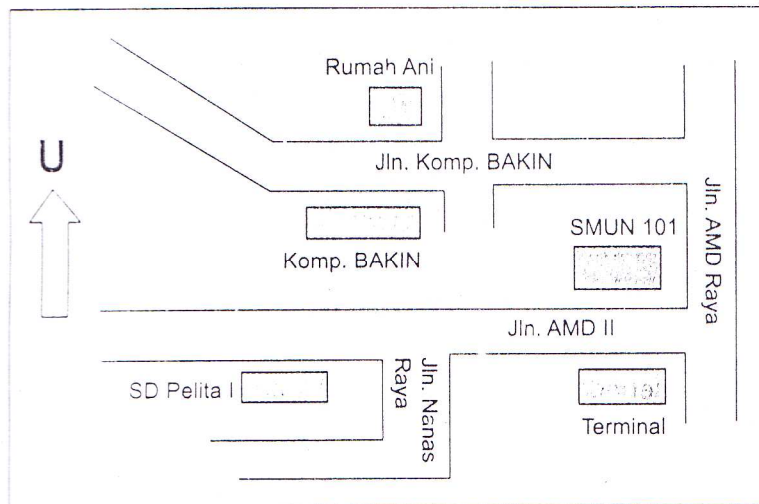
14. Bagaimana sambutan penonton pada saat menyaksikan kebolehan para penari di atas pentas?
- a. Menyambut dengan meriah
  - b. Merasa percaya diri
  - c. Mengharapkan tampil kembali
  - d. Memandang remeh
15. Mengapa kepala sekolah tersenyum bahagia?

- a. Karena penarinya selalu patuh pada arahan Bu Nur
- b. Karena para panitia bekerja dengan terampil
- c. Karena anak didiknya menjadi juara dalam lomba tari
- d. Karena para siswa berani tampil di atas pentas

16. Kesimpulan isi bacaan di atas adalah.....

- a. Rajin berlatih menghasilkan prestasi gemilang
- b. Lomba seni diadakan Suku Dinas Kebudayaan setiap tahun
- c. Ibu guru kami yang sabar
- d. Sekolah kami sarat dengan prestasi

17. Perhatikan denah berikut ini secara seksama !



Jika hendak berangkat ke SD Pelita I, Ani melewati jalan.....

- a. Jln Komp. BAKIN, Jln AMD Raya, dan Jln AMD II
- b. Jln Komp. BAKIN, Jln. AMD II dan Jln Nanas Raya
- c. Jln. Nanas Raya, Jln AMD Raya dan Jln Komp. BAKIN
- d. Jln. AMD II, Jln Nanas Raya dan Jln. AMD Raya

18.

Suatu hari, Raja Dirga pergi bertapa di sebuah gunung. Raja Dirga ingin mendapat pencerahan dari Yang Maha Esa. Tugas pemerintahan diserahkan kepada Brata. Akan tetapi, ia bertindak sewenang-wenang dan bersikap angkuh. Akibatnya, rakyat menjadi resah. Perampokan dan pembunuhan terjadi di mana-mana

Perbedaan watak dua tokoh dalam dongeng di atas adalah.....

- a. Raja Dirga penakut, Brata pemberani
- b. Raja Dirga lembut, Brata tegas
- c. Raja Dirga bijaksana, Brata sewenang-wenang
- d. Raja Dirga penyendiri, Brata periang

19. Bacalah teks drama berikut dengan seksama!

- Dewi : Di panggung kesenian nanti, kamu akan menampilkan apa, Dila? (*berjalan ke arah Dila*)
- Dila : Aku akan menari Gambyong bersama Naning. Siapa saja yang sudah mendaftar kepadamu, Wi? (*menoleh ke arah Dewi*)
- Dewi : Dika akan menari Kecak. Yuni akan menari Jaipong bersama Fitri. Lia dan kawan-kawan akan menari Serampang Dua Belas. (*tetap menatap dengan lembut*)
- Dila : (*terdiam sejenak, mimik heran*) Lho, Yuni dan Fitri kan bukan orang Betawi. Mengapa mereka tidak menarikan tarian asal orang tuanya, ya?

Dewi : (*tersenyum, mimik wajah lembut*) Dila, kita ini anak Indonesia. Sebaiknya, kita mencintai dan mau mempelajari seni budaya dari daerah-daerah di Indonesia

Amanat drama di atas adalah.....

- a. Pelajari kesenian tanpa membeda-bedakan asalnya
- b. Sebaiknya hanya mendalami kesenian daerah asal
- c. Hati-hati saat mempelajari budaya daerah
- d. Persiapkan diri sebelum tampil di panggung

**Sang Petani**

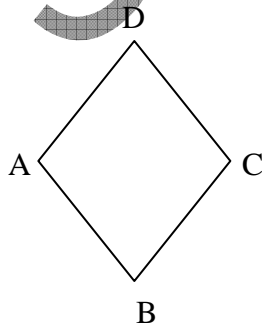
Padi menguning berjajar terhampar  
 Buah dari sejuta juang  
 Seribu tetes peluh dari dahi dikorbankan  
 Persembahannya untuk anak istri  
 Bagi kemakmuran bangsa  
 Bagi kejayaan Negara  
 Untuk Indonesia tercintai

20. Amanat puisi di atas adalah.....
- a. Perjuangan petani bagi keluarga dan negara patut diteladani
  - b. Akhirnya, semua orang tahu susahny jadi petani
  - c. Tidak ada pekerjaan yang gampang
  - d. Jika panen berhasil, petani baru bisa lega

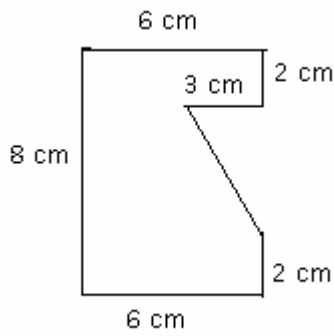
**MATEMATIKA**

21. Hasil penyelesaian dari  $615 : 5 \times 111 - 653 \dots$
- a. 11.100
  - b. 12.000
  - c. 13.000
  - d. 14.000
22. Hasil dari  $2\frac{1}{3} \times 1,5 = \dots$
- a.  $1\frac{1}{2}$
  - b.  $2\frac{1}{2}$
  - c.  $3\frac{1}{2}$
  - d.  $4\frac{1}{2}$
23. Hasil dari  $22^2 : \sqrt{21} = \dots$
- a. 22
  - b. 32
  - c. 44
  - d. 54
24.  $12\frac{1}{2} \text{ kg} + 15 \text{ pon} + 2 \text{ ons} = \dots \text{ ons}$
- a. 142
  - b. 157
  - c. 202
  - d. 277
25.  $0,4 \text{ m}^3 + 12 \text{ dm}^3 = \dots \text{ cm}^3$
- a. 41.200
  - b. 52.000
  - c. 124.000
  - d. 12.000

26. Panjang AC = 6 cm dan BD = 8 cm. Keliling ABCD ...
- a. 28
  - b. 20
  - c. 18
  - d. 14



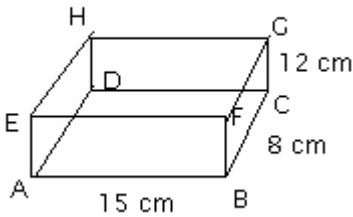
27.



Keliling bangun di atas ...

- a. 36 cm
- b. 32 cm
- c. 31 cm
- d. 27 cm

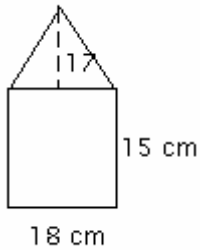
28.



Luas permukaan bangun disamping .... cm<sup>2</sup>

- a. 725
- b. 752
- c. 729
- d. 792

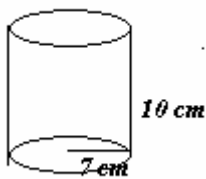
29.



Luas seluruh bangun disamping ... cm<sup>2</sup>

- a. 423
- b. 323
- c. 270
- d. 153

30.



Luas permukaan tabung di samping ... cm<sup>2</sup>

- a. 3.432
- b. 1.232
- c. 748
- d. 616

31. Panjang diagonal sebuah kubus adalah  $4\sqrt{3}$ , maka panjang sisi kubus tersebut adalah .....

- a. 2
- b. 3
- c. 4
- d. 5

32. Hasil dari  $\sqrt{16} + \sqrt{4} \times \sqrt{64}$  adalah .....

- a. 20
- b. 16
- c. 14
- d. 12

33. Hasil pengurangan bilangan 5 dari -3 adalah .....

- a. 2
- b. -2
- c. 8
- d. -8

34. Dari data 2,2,3,4,6,7,x, jika data tersebut rata-ratanya 4. Maka nilai x adalah...

- a. 6
- b. 5
- c. 4
- d. 3

35. Jarak Kota Kediri dan Surabaya 150 km. Pada sebuah peta keduanya berjarak 6 cm. Skala peta tersebut ...

- a. 1 : 15
- b. 1 : 20
- c. 1 : 25
- d. 1 : 50

36. Sebuah kebun berbentuk persegi panjang, jika panjangnya 46 m dan luas kebun tersebut 690 m<sup>2</sup>. Maka keliling kebun tersebut adalah ..

- a. 98 cm
- b. 122 cm
- c. 87 cm
- d. 112 cm



37. Hasil penyelesaian dari  $2\frac{1}{3} - \frac{1}{4} = \dots$

a.  $\frac{23}{12}$

b.  $2\frac{1}{12}$

c.  $1\frac{5}{12}$

d.  $\frac{17}{12}$

38. Kelipatan persekutuan terkecil dari 48, 60, dan 36 adalah ...

a. 420

b. 960

c. 240

d. 720

39. Panjang sebuah kayu mula-mula 2,5 m. Kayu tersebut patah sehingga panjangnya menjadi 130 cm. Kayu tersebut patah sepanjang ... cm

a. 280

b. 380

c. 120

d. 90

40. Sebuah persegi mempunyai luas  $225 \text{ cm}^2$ , maka kelilingnya adalah ... cm

a. 45

b. 30

c. 75

d. 60

SAMPLE TEST

**PEDOMAN WAWANCARA  
CALON SISWA RSBI  
TAHUN PELAJARAN**

1. Apa yang mendorong kamu masuk di RSBI?
2. Persiapan apa saja yang sudah kamu lakukan ?
3. Prestasi apa saja yang sudah kamu peroleh ?
  - Akademik
  - Non Akademik
4. Bagaimana kebiasaan belajarmu di SD ?
5. Bagaimana wujud dukungan orang tua untuk meraih prestasi ?
6. Kegiatan apa saja yang kamu lakukan untuk mengisi waktu luangmu ?
7. Apa hobi yang kamu miliki ?
8. Sudahkah kamu kembangkan hobimu ?
9. Kebersihan adalah sebagian dari iman. Bagaimana menurutmu ?
10. Dll

## WAWANCARA DENGAN ORANG TUA

1. Nama :

Pekerjaan Ayah :

Pekerjaan Ibu :

Alamat :

2. Alasan orang tua menyekolahkan putra/putrinya ke RSBI

3. Bagaimana wujud dukungan dari orang tua ?

4. Sejauh mana kesiapan orang tua dan anak untuk sekolah di RSBI ?

5. Kebiasaan belajar anak di rumah

6. Dll

SAMPLE TEST